

2026年度 須磨学園中学校入学試験

社 会

第 2 回

(注 意)

解答用紙は、この問題冊子の中央にはさんであります。まず、解答用紙を取り出して、
受験番号シールを貼^はり、受験番号と名前を記入しなさい。

1. すべての問題を解答しなさい。
2. 解答はすべて解答用紙に記入しなさい。
3. 試験終了^{しゅうりょう}後、解答用紙のみ提出し、問題冊子は持ち帰りなさい。

須磨学園中学校

1 2025年4月にローマ教皇が亡くなり、日本からは岩屋外務大臣がバチカンで行われた葬儀^{そうぎ}に参列しました。日本とローマ教皇との交流の歴史は、16世紀のキリスト教伝来に始まり、今日までに400年を超えます。このことに関係するあとの問いに答えなさい。

問1 1549年、フランシスコ・ザビエルは現在の何県^{とう}に到着し、布教を始めましたか。

問2 1582年、キリシタン大名により使節団がローマへ派遣されましたが、この使節を送ったとされるキリシタン大名に^{ふく}含まれない人物は誰ですか。次のア～エより1つ選び、記号で答えなさい。

ア 有馬晴信 イ 大友義鎮 ウ 大村純忠 エ 益田時貞

問3 下の写真は、大英図書館が所蔵している、日本を訪れたキリスト教宣教師の日本語学習向けに編集された読本の一つです。これらの読本はポルトガル語式のローマ字で書かれているため、当時の日本語の発音を知ることができ、また口語体で書かれているため、当時の話し言葉を知ることができます。写真の読本に取り上げられている作品について、次の問いに答えなさい。



(1) 「祇園精舎の鐘^{かね}の声、諸行無常の響^{ひび}きあり。娑羅双樹^{しゃらそうじゆ}の花の色、盛者必衰^{ひつすい}の理をあらはす。驕^{おご}れる人も久しからず」と有名な書き出しで始まるこの物語の名前を答えなさい。

- (2) (1) の物語の時代のできごとについて述べた次の文章を読み、空らん (Ⅰ) ～ (Ⅲ) に入る適切な語句の組み合わせをあとのア～エより1つ選び、記号で答えなさい。

保元の乱でともに (Ⅰ) に味方し、勝者となった平清盛と (Ⅱ) は1159年12月に京都で起こった乱で対立することになります。その後、対立勢力を一掃した平清盛は、武士として初めて (Ⅲ) に任命されました。

	Ⅰ	Ⅱ	Ⅲ
ア	崇徳上皇	源為朝	関 白
イ	後白河天皇	源義朝	太政大臣
ウ	崇徳上皇	源義朝	太政大臣
エ	後白河天皇	源為朝	関 白

- 問4 成立当初は、キリスト教の布教を黙認^{もく}していた江戸幕府ですが、のちに全面的に禁止し、鎖国へと舵^{かじ}を切っていくことになります。次のア～オに挙げたそれに関する施策^{しさく}やできごとを古い順に並べなさい。

- ア 幕府が「異国船打払令」を出す
 イ スペイン船の来航を禁止
 ウ ロシアからラクスマンが根室に来航し、通商を要求
 エ ヨーロッパ船の寄港地を長崎と平戸に限定
 オ ポルトガル船の来航禁止

問5 1942年に日本はアジアの国家としては初めて、バチカンと正式に国交を開きました。
この1940年代までに行われた事がら、起こった事がらを述べた次の文X～Zについて、
その正誤の組み合わせとして適切なものを、あとのア～カより1つ選び、記号で答え
なさい。

X 日本政府は、正式に国際連盟から脱退した。

Y 足尾銅山の^{こうどく}鉍毒が渡良瀬川流域の農漁業に深刻な被害をもたらした事件が発生した。

Z NHKが日本で最初のテレビ放送を始めた。

ア	X 正	Y 正	Z 誤	イ	X 正	Y 誤	Z 正
ウ	X 誤	Y 正	Z 誤	エ	X 誤	Y 誤	Z 正
オ	X 正	Y 誤	Z 誤	カ	X 正	Y 正	Z 正

問6 1952年には、日本政府はバチカンとの国交回復を閣議決定したのち、初代駐日^{ちゅう}教皇
公使が着任し、国交が回復しました。1970年の日本万国博覧会には、バチカン市国は
日本万国博キリスト教館委員会とともに「キリスト教館」を出展しました。2025年に、
大阪府で開かれた万国博覧会で、バチカンパビリオンは、(A) のパビリオン内
に設置され、カラヴァッジョの名作『キリストの^{まいそう}埋葬』が展示されました。(A)
に当てはまる国名をカタカナで答えなさい。

2

次のレポートは、歴史の授業の調べ学習で日本の乗り物・運搬^{ばん}の歴史をテーマに
A班からD班がまとめたレポートです。これを読んであとの問いに答えなさい。

A班 船の歴史

- ・古くは①縄文時代から丸木舟が用いられ、交通や漁労などに用いられていた。
- ・飛鳥時代からは遣隋使船や遣唐使船など100名を超える人数が乗船できる大型船が作られるようになった。
- ・安土桃山時代になると巨大な軍船である安宅^{あたけ}船などが作られた。
- ・江戸時代には物資を運ぶため菱垣廻船や樽廻船、北前^{やく}船などが活躍した。

B班 陸上交通の歴史

- ・②奈良時代には国家が主導し中央と地方を結ぶ官道が整備された。
- ・③平安貴族の乗り物として牛車や輿^{こし}が登場した。
- ・武士の時代が訪れると、戦でも活躍する乗り物として馬が用いられた。
- ・④室町時代には荷物をのせて陸路で運ぶ馬借や、車借が活躍した。
- ・⑤江戸幕府は街道を整備し、文書などを届ける飛脚^{はん}を制度化した。

C班 車の歴史

- ・明治31年、日本で初めて海外から自動車が輸入された。
- ・⑥大正～昭和初期にかけて国産量産自動車が製造・販売^{はん}された。
- ・1933年、トヨタ自動車の前身となる豊田自動織機製作所・自動車部が設立された。
- ・1950年代半ばからの高度経済成長期にモータリゼーションが起こった。

D班 鉄道の歴史

- ・⑦明治時代、軌道上を走る鉄道馬車といわれるものが誕生した。
- ・明治5年、日本初の蒸気機関車による鉄道路線が新橋～横浜間で開通した。
- ・明治7年には神戸～大阪間、明治10年には大阪～京都間の鉄道が開業し、以降全国に鉄道網が拡大した。
- ・明治36年、鉄道馬車は路面電車に切り替わった。
- ・明治39年、鉄道国有法が成立し、日本の鉄道は原則国有となった。
- ・(⑧) 年、東海道新幹線が東京～新大阪間で開業し、以降、各地で新幹線が開業していった。

問1 下線部①について、縄文時代の遺跡や遺物の写真としてふさわしいものを次のア～エより1つ選び、記号で答えなさい。



ア



イ



ウ



エ

問2 下線部②について、奈良時代の農民に課せられた税に関する説明として適切なものを次のア～エより1つ選び、記号で答えなさい。

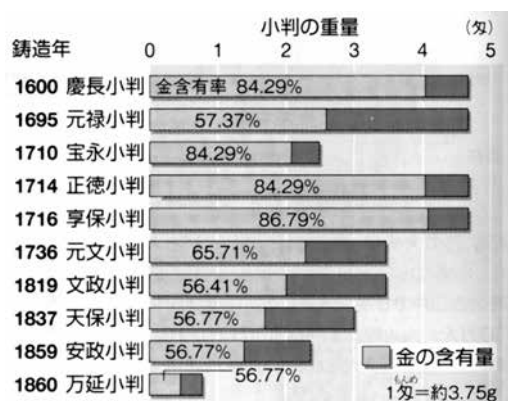
- ア 織物や地方の特産物を納める調が課せられた。
- イ 九州北部の防衛を行う衛士という兵役が課せられた。
- ウ 1年に60日を限度として国司の下で働く庸が課せられた。
- エ 収穫量の約3%の稲を納める出挙が課せられた。

問3 下線部③について、平安時代の貴族の屋敷に用いられた建築様式のことを何というか答えなさい。

問4 下線部④について、以下の室町時代に起きたア～エのできごとを古い順番に並べかえなさい。

- ア 加賀の一向一揆が起こり、一向宗の信者らが支配者を破り、自治を行うようになった。
- イ 足利義満が京都に花の御所をつくり、そこで政治を行った。
- ウ 近畿地方で借金の帳消しの徳政令を求める正長の徳政一揆（土一揆）が起こった。
- エ 6代将軍足利義教が赤松氏によって暗殺された嘉吉の変が起こった。

問5 下線部⑤について、次のグラフは江戸幕府が製造した小判の金銀の比率と重さを示したものです。表中の元禄小判が、慶長小判に代わって使用されるようになったときに、社会に起こった変化とその理由について説明しなさい。



問6 下線部⑥について、大正時代～昭和初期にかけて起こったできごとの説明として誤っているものを次のア～エより1つ選び、記号で答えなさい。

- ア 日本は日英同盟を理由に、第一次世界大戦に参戦した。
- イ 富山県の漁村で米の安売りを求める米騒動がおこり、全国に広がった。
- ウ 女性参政権^{かく}の獲得を目指し、新婦人協会を設立した与謝野晶子^{やく}などが活躍した。
- エ 柳条湖事件をきっかけに、満州事変が起こり、関東軍が満州^{せん}を占領した。

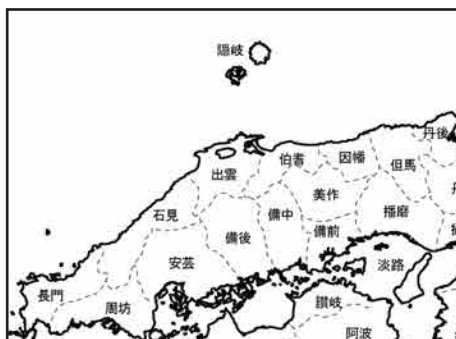
問7 下線部⑦について、明治時代の文化について述べた文章として適切なものを次のア～エより1つ選び、記号で答えなさい。

- ア 西洋の思想が日本に流入し、森鷗外が『学問のすゝめ』を書いた。
- イ 岩倉使節団として海外に渡った津田梅子は、帰国後、女子教育に力をそそいだ。
- ウ 志賀潔が、破傷風の血清療法^{りょう}やペスト^{きん}菌を発見した。
- エ 樋口一葉が、筆者の個人的な感情や社会への批判を表現した『一握の砂』を発表した。

問8 空らん（ ⑧ ）にあてはまるのは西暦何年か、答えなさい。

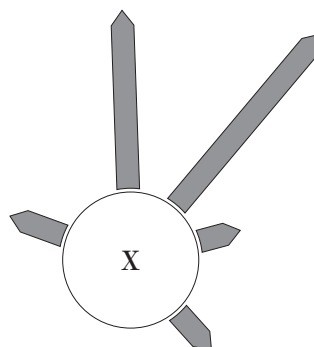
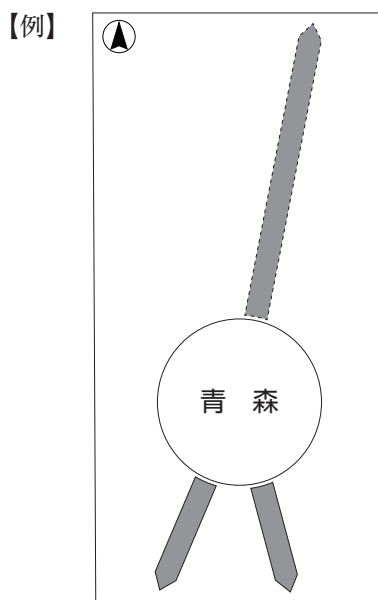
3 日本の都道府県に関する次の問いに答えなさい。

問1 「九州」地方には沖縄県を合わせても8つの県しかありません。「九州」と呼ばれているのは、かつて九つの「国」に分かれていたからです。こういった昔の「国」について示された解答らんの地図上に現在の岡山県の県境を実線で太く描きなさい。
(海上は省略してもよいものとします。)



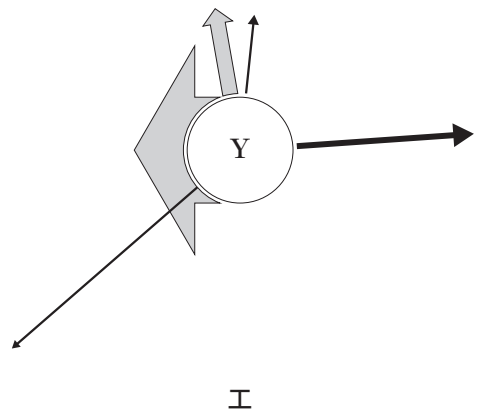
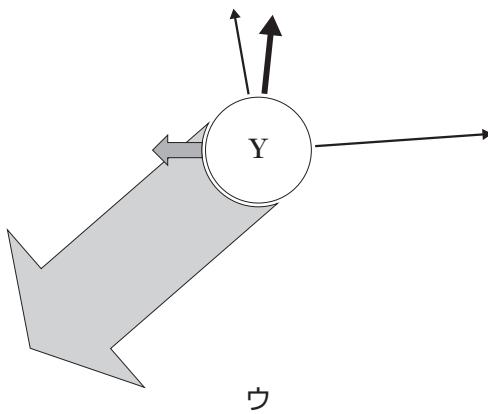
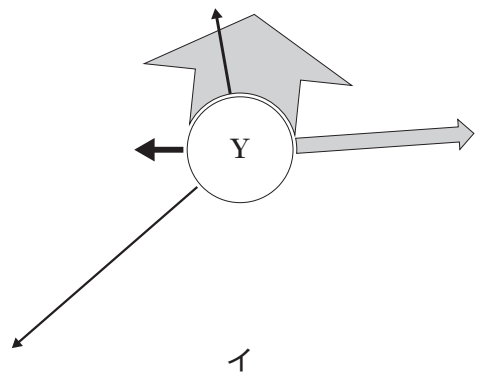
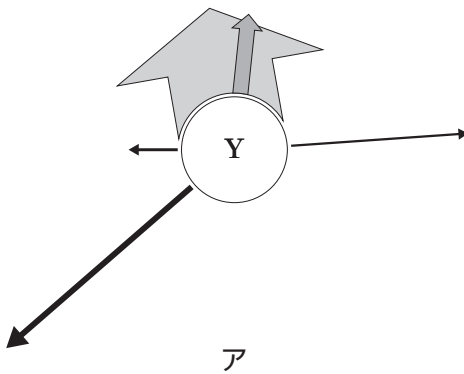
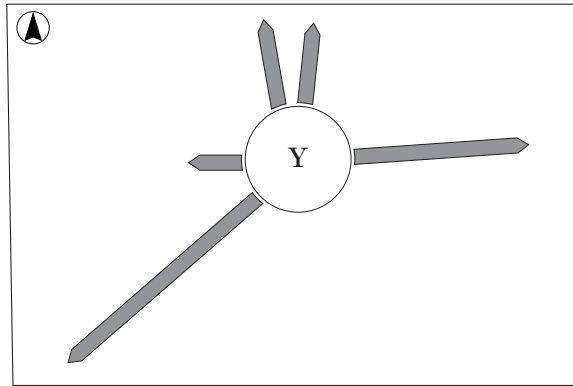
例) 現在の福岡県を示したもの↑

問2 次の図はある都道府県と隣県との位置関係を、都道府県庁所在地間の距離^{りんけん}で示したものです。Xにあてはまるのはどの都道府県か答えなさい。



問3 問2と同じように表現されたY県※から隣県への通勤・通学者数を矢印の太さで表すと、下のア～エのどれになりますか。1つ選び、記号で答えなさい。

※問2と縮尺は変えてあります。



統計年次は2020年。

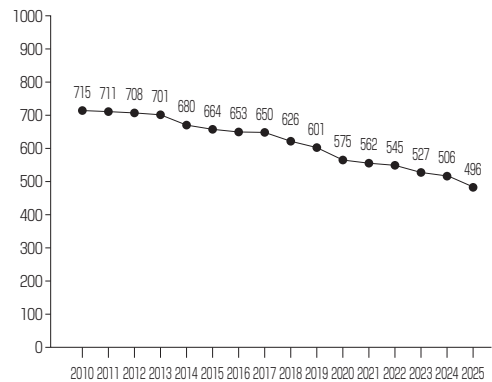
e-Stat国勢調査 従業地・通学地による人口・就業状態等集計により作成。

問4 次の図は、全国的に展開されている組織 **Z** の、都道府県別の数と全国の組織数の合計の推移を表しています。この組織は、組合員の農家に農業技術の指導をしたり、農業に必要な資材をできるだけ安く共同で購入したり、新鮮な農畜産物を売るファーマーズマーケット（直売所）を開いたり、銀行や保険会社のように貯金や融資や共済の事業を展開している組織です。 **Z** にあてはまる組織の名称を答えなさい。

【各都道府県の **Z** 数】(2025年4月現在)



【 **Z** 数の推移】

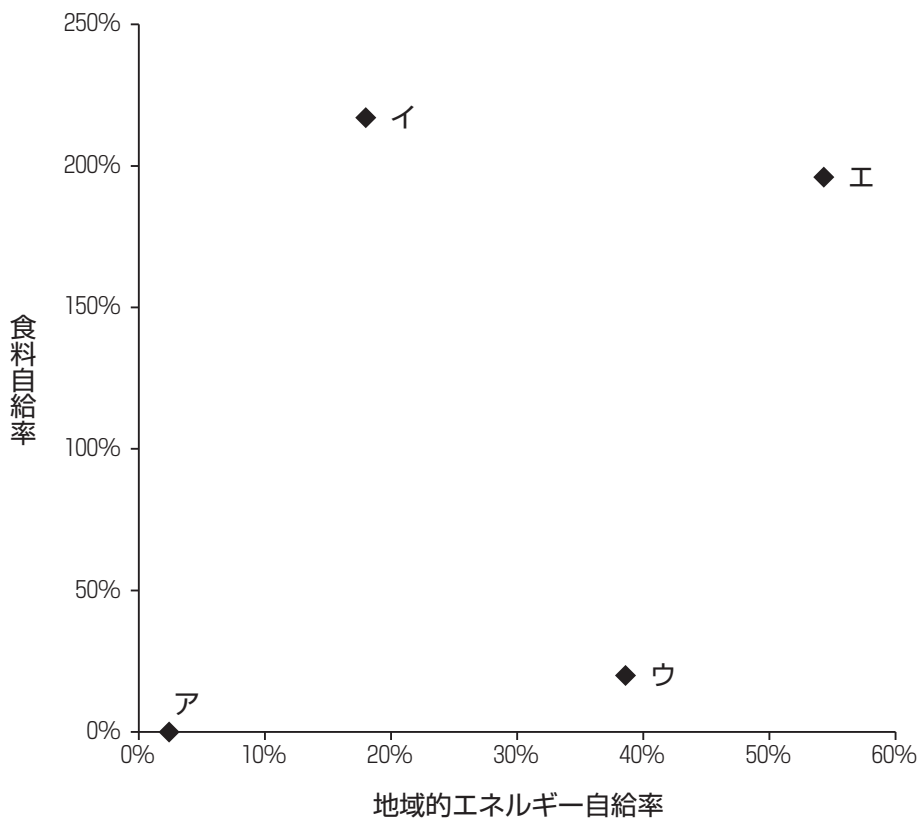


Z の資料をもとに作成。

問5 次の図は、秋田県、東京都、北海道、山梨県の食料自給率[※]と地域的エネルギー自給率^{※※}を表しています。山梨県にあたるものを、図中のア～エより1つ選び、記号で答えなさい。

※食料自給率は、「1人・1日当たりの各都道府県産熱量（カロリー）」を「1人・1日当たりの供給熱量（カロリー）」で割って算出されます。

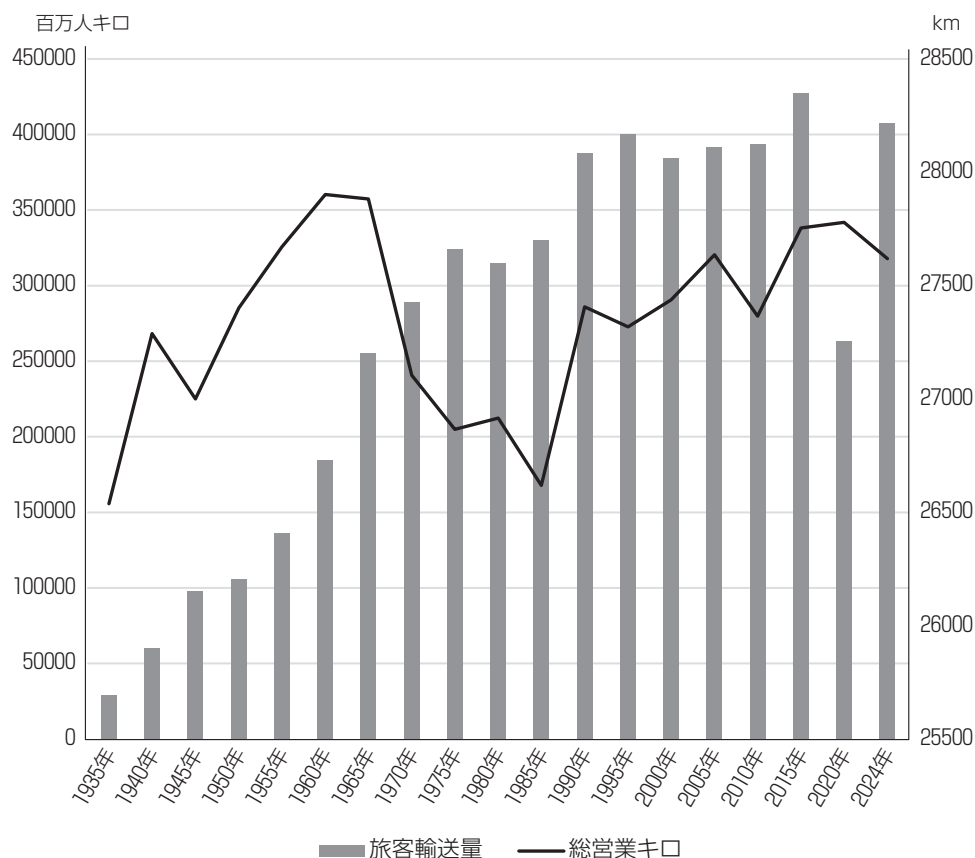
※※地域的エネルギー自給率は、その区域での「再生可能エネルギー供給量」をその区域の「民生・農林水産業用エネルギー需給量^{じふききやう}」で割ったものです。ここでの「再生可能エネルギー」には、太陽光発電、風力発電、地熱発電、小水力発電、バイオマス発電、太陽熱利用、地熱利用、バイオマス熱利用が含まれます。



食料自給率は農林水産省の資料により、地域的エネルギー自給率は永続地帯2024年度版報告書により作成。

問6 次の図は、日本の鉄道総延長（総営業キロ）と鉄道の旅客輸送量の推移を表しています。この図に関連して述べられた文のうち、適切でないものをあとのア～エより1つ選び、記号で答えなさい。

※ 旅客輸送量は旅客数と乗車区間の距離をかけ合わせ「人キロ」という単位で表されます。

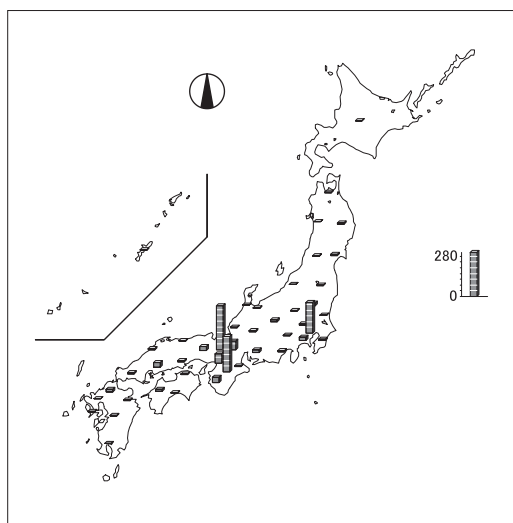


国土交通省 鉄道輸送統計調査などをもとに作成。

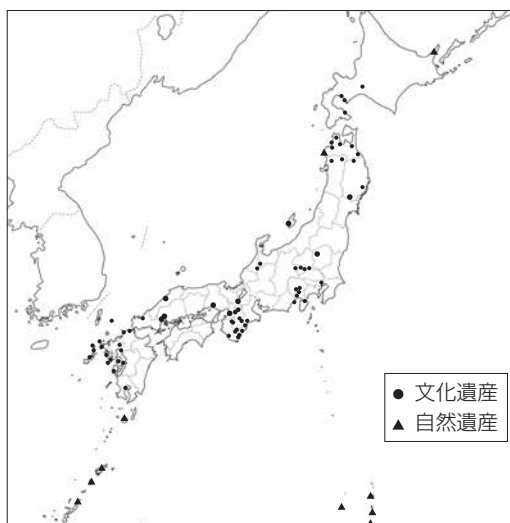
- ア 1965年以降の総営業キロの縮小には、自動車による輸送の増加が影響している。
- イ 1995年から2000年にかけての旅客輸送量の減少には、日本の人口減少が影響している。
- ウ 2010年から2015年にかけての総営業キロの延長には、新幹線の新路線の開業が影響している。
- エ 1965年以降、総営業キロが縮小したにもかかわらず旅客輸送量が増加したのは、大都市圏への人口集中の影響による。

問7 次の図は、都道府県ごとの国宝の分布と、全国の世界遺産を示したものです。これについて述べたあとの会話文中の空らん（Ⅰ）と（Ⅲ）にあてはまるものとして、適切なものの正しい組合せをあとのア～クより1つ選び、記号で答えなさい。

【国宝数】



【世界遺産】



先生 国宝の分布と、世界遺産の分布の特徴にはちがいがあがあるのが分かりますか。

生徒 国宝は特定の都府県に集中していますね。

先生 国宝には、工芸品、彫刻、書跡、典籍、古文書、考古資料、歴史資料などが含まれるため、それらを所蔵している博物館や寺社の多いところが数の上では多くなるというわけです。

生徒 世界遺産には、文化遺産以外にも自然遺産があるので広く分布するということですね。

先生 世界遺産には（Ⅰ）という選定基準があるのに対し、国宝は（Ⅱ）というのが指定の基準ですね。

生徒 ちょっとした違いがあるのですね。

先生 建造物に注目して見てみましょう。次の表にまとめてみました。たとえば、

C

にあてはまるのは、あとの選択肢い～にのうちのどれか分かりますか。

生徒 （Ⅲ）ですね。

先生 正解です。よくわかりましたね。

	世界遺産	世界遺産ではない
国宝	姫路城 A	彦根城 C
国宝ではない	首里城跡 ^{あと} B	大阪城 D

【Ⅰの選択肢】

甲 世界文化の見地から特に価値の高いもの。意匠^{いしょう}的または技術^{ぎゅうしゅう}的に優秀であるか、歴史的・学術的価値が高いもの、また、流派^{けんちよ}的・地方的特色において顕著なもの。

乙 地球の生成と人類の歴史によって生み出され、過去から現在へと引き継^つがれ、そして私たちが未来の世代に引き継いでいくべきかけがえのない宝物。

【Ⅲの選択肢】

い 出雲大社 ろ 厳島神社 は 金閣 に 東京駅

	ア	イ	ウ	エ	オ	カ	キ	ク
Ⅰ	甲	甲	甲	甲	乙	乙	乙	乙
Ⅲ	い	ろ	は	に	い	ろ	は	に

4 須磨学園中学校で国語研究部と社会科研究部を兼部^{けん}しているつむぎさんは、江戸時代に松尾芭蕉が書いた『おくのほそ道』を読みながら、松尾芭蕉がどのような場所を訪れたのか調べていました。次の文章を読み、あとの問いに答えなさい。

古くからの詩人や歌人が旅に人生をささげていたことから、松尾芭蕉も同じ思いをいだくようになり、江戸を出発して北へ向かいました。現在の東京都から①埼玉県に入り、栃木県、福島県、宮城県を経由しました。かねてからの願いであった②松島も見ることができましたが、俳句を残さなかったのは有名な話です。松島を見た後は、③宮城県から岩手県に入り、進路を西へ変え山形県に入ると④最上川を下り、日本海に出てからは松島と並ぶ名所であった象潟^{きさかた}を見るために現在の秋田県まで北上しました。

その後は⑤日本海に沿う形で南下していきました。途中には⑥親不知^{おやしらず}の難所^こを越える様子も記されています。旅のしめくりには現在の滋賀県を経由して岐阜県に入りました。『おくのほそ道』は、現在の⑦岐阜県の大垣市で終わる形となっていますが、三重県の伊勢市にある伊勢神宮をお参りする予定であることも記されています。

問1 下線部①に関連して、埼玉県、福島県、宮城県の3つの県について、野菜、果実、肉用牛の産出額（単位は億円）を次の【表1】で示しました。表中のA～Cはどの県を表していますか、その組合せとして適切なものを下のア～カより1つ選び、記号で答えなさい。

【表1】

	野菜	果実	肉用牛
A	768	49	49
B	480	317	128
C	274	19	253

e-Stat生産農業所得統計より。

- | | | | |
|---|-------|-------|-------|
| ア | A 埼玉県 | B 福島県 | C 宮城県 |
| イ | A 埼玉県 | B 宮城県 | C 福島県 |
| ウ | A 福島県 | B 埼玉県 | C 宮城県 |
| エ | A 福島県 | B 宮城県 | C 埼玉県 |
| オ | A 宮城県 | B 埼玉県 | C 福島県 |
| カ | A 宮城県 | B 福島県 | C 埼玉県 |

問2 下線部②に関連して、松島は次の【写真2】のように、たくさんの島々がみられます。

このような光景が見られる理由を次の文章で説明しました。XとYにあてはまる内容の組合せとして適切なものを、下のア～エより1つ選び、記号で答えなさい。

【写真2】



松島観光協会ウェブサイトより。

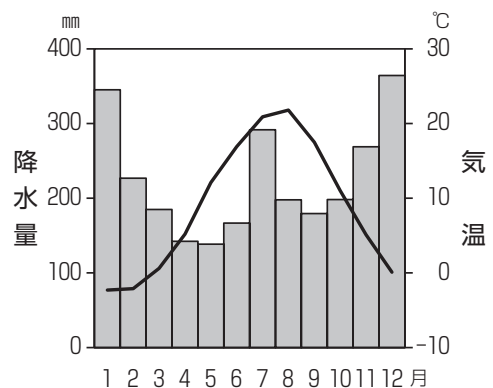
丘が広がっているような標高が高い地形が、川などによってあちこちが削られることによって、逆に削られなかったところが山頂になる。こうしてできたたくさんの山頂が、海面の上昇により海に沈むことで松島のような地形ができる。地球規模で（ X ）ときほど海面との高低差が大きいことから、川が大地を削る働きは大きくなる。また、地球規模で（ Y ）と海面の上昇が発生する。

- | | | | | |
|---|---|-------|---|---------|
| ア | X | 気温が高い | Y | 気温が上昇する |
| イ | X | 気温が高い | Y | 気温が低下する |
| ウ | X | 気温が低い | Y | 気温が上昇する |
| エ | X | 気温が低い | Y | 気温が低下する |

問3 下線部③に関連して、宮城県や岩手県では木を植えるということが盛んにおこなわれています。木を植えることの効果を説明した文のうち適切でないものを、次のア～エより1つ選び、記号で答えなさい。

- ア 山の中の日当たりを減らすことで、^び微生物の活動を活発にする。
- イ 土砂を流れ出にくくすることで、川や海の泥^{どろ}の量を減らす。
- ウ 土の栄養分を増やすことで、川や海の生き物に恵^{めぐ}みをもたらす。
- エ 海岸に木を増やすことで、津波がおそってきたときの勢いをやわらげる。

問4 下線部④に関連して、最上川は流域の農業に欠かせない役割をしています。次の【地図3】で最上川を示し、また流域にある地図中の●地点の雨温図も示しました。これらを参考にしながら、最上川が農業にどのような役割をしているのか説明しなさい。



問5 下線部⑤に関連して、日本海に面した県には^{こんぶ}昆布やそばを用いた郷土料理があります。
 なぜそのような郷土料理があるのかを説明した下の文章の空らん 、
 に入る内容として、適切なものをあとのア～エよりそれぞれ1つ選び、記号で答え
 なさい。

新潟県の郷土料理 へぎそば	富山県の郷土料理 昆布まき
	
石川県の郷土料理 さわらの昆布じめ	福井県の郷土料理 おろしそば
	

農林水産省ウェブサイトより。

昆布：日本海側は ことから、昆布が身近な食材だったから。

そば：日本海側は ことから、そばが身近な食材だったから

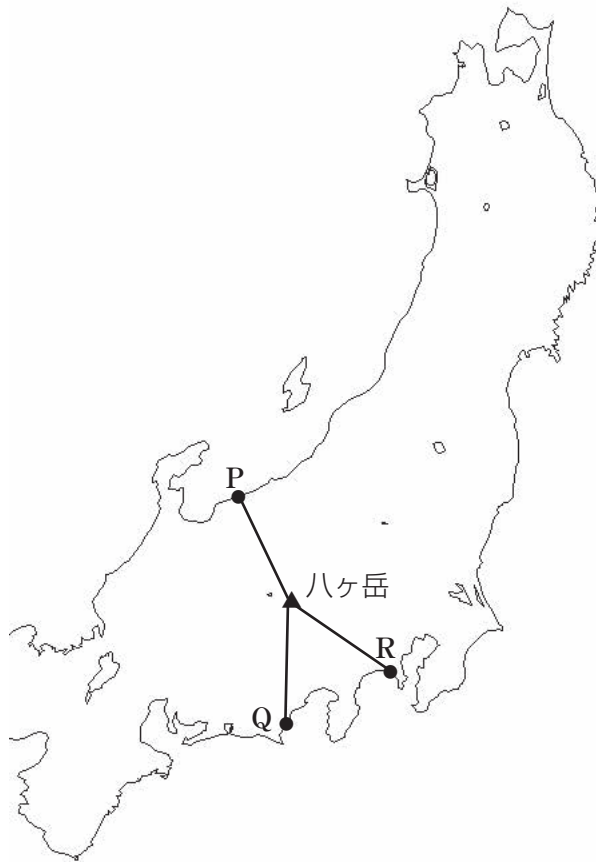
ア 北海道から船で運んで来やすい

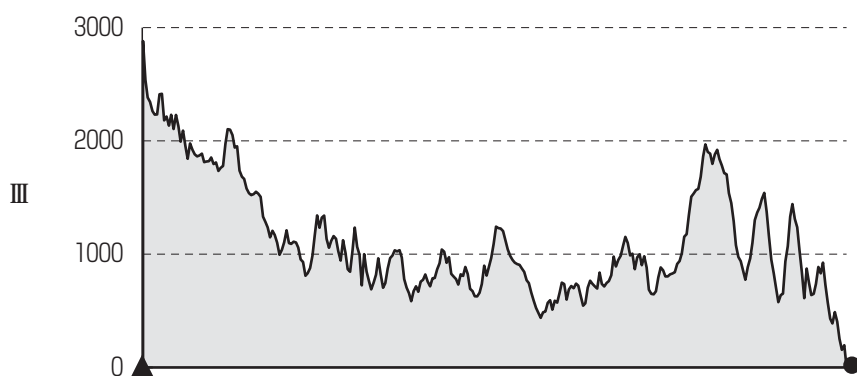
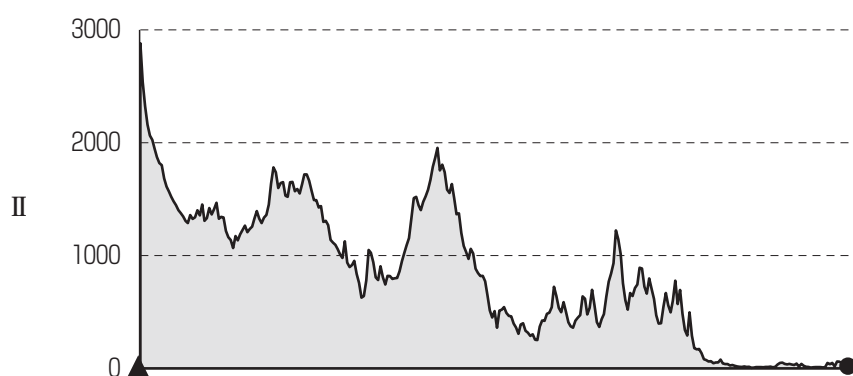
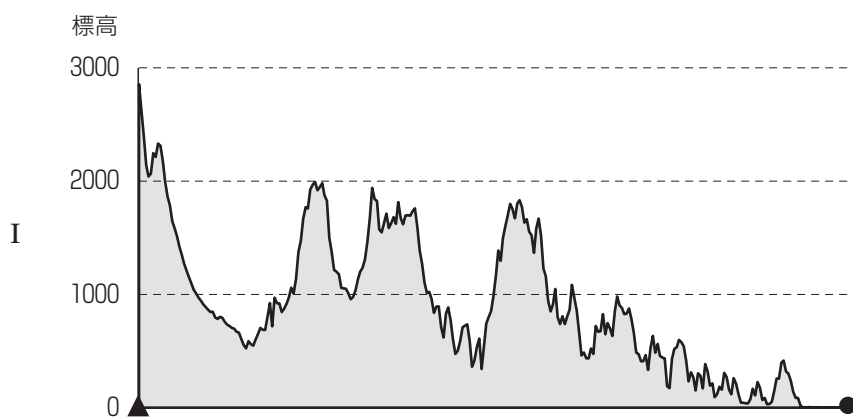
イ 九州から船で運んで来やすい

ウ ^{れいりょう}冷涼な天気になりやすい

エ ^{かんそう}乾燥した天気になりやすい

問6 下線部⑥に関連して、親不知の難所は図中の地点Pです。このPから八ヶ岳までを線で結びました。また八ヶ岳から地点Qと地点Rにも線を引き、3本の線の距離は同じになりました。この3本の線上の標高を表した図は次のページのⅠ～Ⅲのどれかです。P～RとⅠ～Ⅲの正しい組み合わせを下のア～カより1つ選び、記号で答えなさい。なおⅠ～Ⅲのいずれも、左側が八ヶ岳、右側がP～Rのいずれかとなっています。

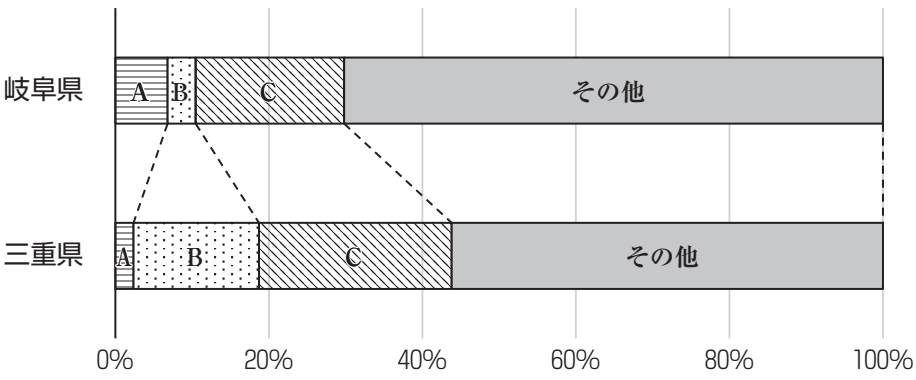




	ア	イ	ウ	エ	オ	カ
ハヶ岳からP	I	I	II	II	III	III
ハヶ岳からQ	II	III	I	III	I	II
ハヶ岳からR	III	II	III	I	II	I

問7 下線部⑦に関連して、岐阜県と三重県の工業生産額の内訳を次の表に示しました。

表中のA～Cは、電子部品・デバイス・電子回路製造業、輸送用機械器具製造業、窯業・^{ようぎょう}土石製品製造業のいずれかです。内容とA～Cの組み合わせとして適切なものを下のア～カより1つ選び、記号で答えなさい。



令和3年経済センサスより。

	電子部品・デバイス・ 電子回路製造業	輸送用機械器具 製造業	窯業・土石製品 製造業
ア	A	B	C
イ	A	C	B
ウ	B	A	C
エ	B	C	A
オ	C	A	B
カ	C	B	A

5

次の文章は、日本経済新聞からの抜粋です。これを読んで、あとの問いに答えなさい。

加藤^{とう}勝信財務相は9日の日本経済新聞のインタビューで、物価高対策として野党が求める①消費税の減税に否定的な考えを示した。「引き下げは適切でなく、石破茂首相とも考えは一致^ちしている」と述べた。②国債^{さい}の安定消化に向けて市場の信認^いを維持する必要性を強調した。夏の参院選を前に立憲民主党や日本維新の会が期間限定での食料品の消費税率ゼロを主張するなど、野党を中心に減税を求める声が大きくなっている。与党内にも同様の意見がある。加藤氏は「政府として消費税の引き下げは適切ではないとこれまでも③首相を先頭に明確に言っている」と説明した。消費税収は年金や医療^{りよう}といった④社会保障の財源となっている。高齢化が進むなかで施策の維持のためには減税は不適切だとの考えがある。

日本経済新聞 土曜版 2025年5月10日 日刊

問1 下線部①に関連して、令和元年10月1日より導入された軽減税率について、対象となるものを次のア～オよりすべて選び、記号で答えなさい。

ア ピザの宅配

イ 水道水

ウ 学校の給食

エ 本みりん

オ 店舗^ぼで販売^{はん}している新聞

問2 下線部②に関連し、次のページのグラフは、2025年度の国の予算を表しています。

A、B、Cには、「社会保障」、公的サービスに格差が生じないように国が地方公共団体の財政力を調整するために支出する「地方交付税交付金等」、「防衛」のいずれかが入ります。A～Cに入るものの組み合わせとして適切なものを次のア～エより1つ選び、記号で答えなさい。

ア A：地方交付税交付金等

B：防衛

C：社会保障

イ A：社会保障

B：地方交付税交付金等

C：防衛

ウ A：防衛

B：地方交付税交付金等

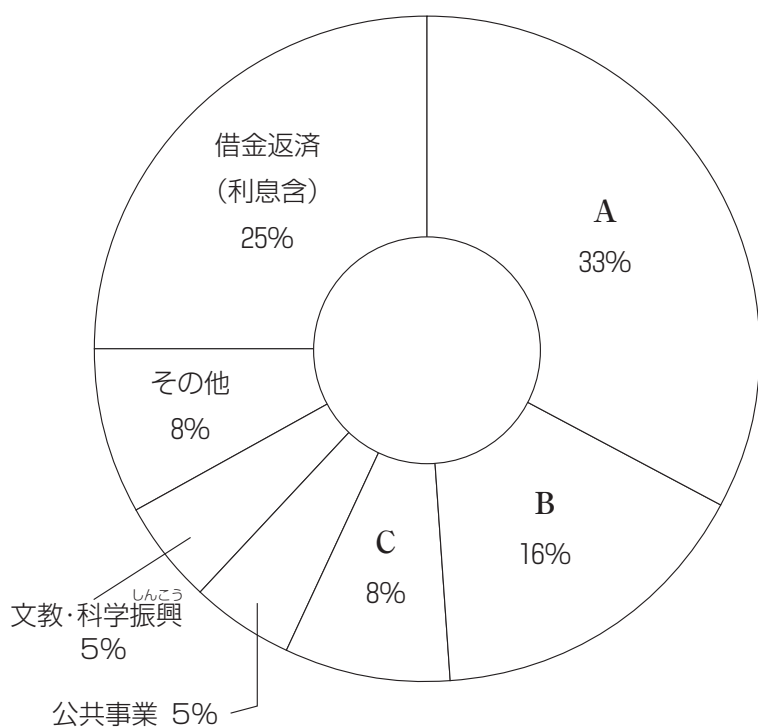
C：社会保障

エ A：社会保障

B：防衛

C：地方交付税交付金等

【日本の2025年度国家予算】



財務省ウェブサイトより。

問3 下線部③について、憲法で定められている首相の権限にあてはまらないものを次のア～エより1つ選び、記号で答えなさい。

- ア すべての法律や政令に主任大臣とともに署名すること
- イ 外交関係について国会に報告すること
- ウ 予算を作成し、国会に提出すること
- エ 国務大臣を任命すること

問4 下線部④に関連して、社会保障制度について述べた次の文章を読み、あとの問いに答えなさい。

社会保障制度は、国民の「安心」や生活の「安定」を支えるセーフティネットです。「社会保険」、「(Ⅰ)」、「公的^ふ扶助」、「保健医療・公衆衛生」からなり、子どもから子育て世代、お年寄りまで、全ての人々の生活を生涯^がにわたって支えるものです。

このうち、例えば、「社会保険」には、年金保険、医療保険、(Ⅱ)保険、雇用保険、労災保険の5つがあります。「公的扶助」は、生活に困窮^{きゆう}する国民に対して、一定水準の生活を保障し、自立を助けようとする制度をいい、その中心をなすのが生活保護制度です。

X 日本国憲法の第25条第1項^{こう}で、「すべて国民は、健康で文化的な最低限度の生活を営む権利を有する」と「(Ⅲ)権」を定め、同条第2項では「国は、すべての生活部面について、(Ⅰ)、社会保障^お及び公衆衛生の向上及び増進に努めなければならない」と規定しています。

(1) 空らん(Ⅰ)～(Ⅲ)に入る語句の組み合わせについて、適切なものを次のア～エより1つ選び、記号で答えなさい。

	(Ⅰ)	(Ⅱ)	(Ⅲ)
ア	社会福祉	介助	社会
イ	福祉介護	介護	生存
ウ	社会福祉	介護	生存
エ	福祉介護	介助	社会

(2) 内閣府によると、我が国の総人口は、令和5年10月1日現在、1億2,435万人です。65歳^{さい}以上人口は、3,623万人、総人口に占^しめる65歳以上人口の割合は29.1%です。このような社会を何と表現しますか。解答らんにあてはまるように、ひらがなで答えなさい。

- (3) 下線部Xには、成立した法律は、誰^{だれ}によって公布されると定められていますか。
適切なものを次のア～エより1つ選び、記号で答えなさい。

- ア 首相
- イ 成立した法律に関する大臣
- ウ 衆議院と参議院の議長
- エ 天皇

(余 白)

↓ここにシールを貼ってください↓

受 験 番 号			

名 前	
-----	--

2026年度 須磨学園中学校 第2回入学試験解答用紙 社会

(※のらんには、何も記入してはいけません)

1

問1	県	問2		問3	(1)		(2)	
問4	→	→	→	→	問5		問6	


※

2

問1		問2		問3	
問4	→	→	→		
問5					
問6		問7		問8	年

※

3

問1		問2		問3	
		問4		問5	
		問6		問7	

※

4

問1		問2		問3				
問4								
問5	D		E		問6		問7	

※

5

問1				問2				問3			
問4	(1)		(2)							社会	
(3)											

※

※